

Risoluzione

**Problema 1**

Determiniamo le caratteristiche valide per tutte le funzioni della famiglia.

- Dominio:  $D = \mathbf{R}$ .
- Derivata prima:  $y' = k - e^{2x} + (1 - x)2e^{2x} = k + (1 - 2x)e^{2x}$ .
- Derivata seconda:  $y'' = -2e^{2x} + (1 - 2x)2e^{2x} = -4xe^{2x}$ .

Tutte le funzioni della famiglia sono continue e derivabili indefinitamente.

a) I punti di intersezione comuni ai grafici di tutte le funzioni sono quelli le cui coordinate soddisfano l'uguaglianza  $y = kx + (1 - x)e^{2x} \quad \forall k \in \mathbf{R}$ . Ciò significa che l'equazione

$$kx + (1 - x)e^{2x} - y = 0$$

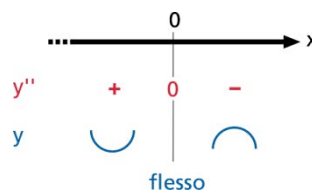
è indeterminata rispetto all'incognita  $k$ . Trattandosi di un'equazione di primo grado in un'incognita, essa è indeterminata se e solo se i suoi coefficienti sono entrambi nulli, ossia:

$$\begin{cases} x = 0 \\ (1 - x)e^{2x} - y = 0 \end{cases} \rightarrow \begin{cases} x = 0 \\ y = 1 \end{cases}$$

I grafici di tutte le funzioni passano pertanto per il punto  $A(0;1)$ . Verifichiamo che tale punto è anche l'unico flesso per ciascuna funzione.

Studiamo il segno della derivata seconda:

$$y'' = -4xe^{2x} > 0 \rightarrow x < 0.$$



**Figura 1**

La concavità è positiva per  $x < 0$ , negativa per  $x > 0$ : il punto  $A$  è l'unico punto di flesso  $\forall k \in \mathbf{R}$ .

b) Poiché tutte le funzioni sono continue in  $\mathbf{R}$ , nessuna presenta asintoti verticali.

Ricerchiamo eventuali asintoti orizzontali e obliqui analizzando il comportamento delle funzioni per  $x$  tendente a  $-\infty$  e a  $+\infty$ .

Il calcolo del limite  $\lim_{x \rightarrow -\infty} [kx + (1 - x)e^{2x}]$  presenta la difficoltà della discussione del segno del parametro  $k$ ; partiamo perciò dalla ricerca degli asintoti obliqui.

Esaminiamo la situazione per  $x \rightarrow -\infty$ :

$$m = \lim_{x \rightarrow -\infty} \frac{y(x)}{x} = \lim_{x \rightarrow -\infty} \frac{kx + (1-x)e^{2x}}{x} = \lim_{x \rightarrow -\infty} \left( k + \frac{1-x}{x} e^{2x} \right) = k;$$

$$q = \lim_{x \rightarrow -\infty} [y(x) - kx] = \lim_{x \rightarrow -\infty} [kx + (1-x)e^{2x} - kx] = \lim_{x \rightarrow -\infty} (1-x)e^{2x}.$$

Questo limite si presenta nella forma indeterminata  $\infty \cdot 0$ ; riconduciamola alla forma indeterminata  $\frac{\infty}{\infty}$  e applichiamo il teorema di De L'Hospital:

$$\lim_{x \rightarrow -\infty} (1-x)e^{2x} = \lim_{x \rightarrow -\infty} \frac{1-x}{e^{-2x}}; \quad \lim_{x \rightarrow -\infty} \frac{D[1-x]}{D[e^{-2x}]} = \lim_{x \rightarrow -\infty} \frac{-1}{-2e^{-2x}} = \lim_{x \rightarrow -\infty} \frac{1}{2} e^{2x} = 0 \rightarrow$$

$$\rightarrow \lim_{x \rightarrow -\infty} (1-x)e^{2x} = 0.$$

La generica funzione ha dunque come asintoto obliquo, per  $x \rightarrow -\infty$ , la retta di equazione:

$$y = kx.$$

Nel caso  $k = 0$ , l'asintoto è orizzontale e coincide con l'asse delle ascisse.

Esaminiamo ora la situazione per  $x \rightarrow +\infty$ :

$$m = \lim_{x \rightarrow +\infty} \frac{y(x)}{x} = \lim_{x \rightarrow +\infty} \left( k + \frac{1-x}{x} e^{2x} \right) = -\infty \rightarrow \text{nessun asintoto obliquo per } x \rightarrow +\infty.$$

Il risultato di questo limite permette di escludere anche l'asintoto orizzontale per  $x \rightarrow +\infty$ ; infatti:

$$\lim_{x \rightarrow +\infty} [kx + (1-x)e^{2x}] = \lim_{x \rightarrow +\infty} x \left( k + \frac{(1-x)e^{2x}}{x} \right) = +\infty \cdot (-\infty) = -\infty.$$

Allora l'unico asintoto della generica funzione della famiglia è la retta di equazione  $y = kx$ . Essa coincide con la retta  $y = -\frac{1}{2}x$  se  $k = -\frac{1}{2}$ .

Determiniamo le eventuali intersezioni tra il grafico della generica funzione e il corrispondente asintoto:

$$\begin{cases} y = kx + (1-x)e^{2x} \\ y = kx \end{cases} \rightarrow \begin{cases} kx = kx + (1-x)e^{2x} \\ y = kx \end{cases} \rightarrow \begin{cases} x = 1 \\ y = k \end{cases}.$$

Il grafico della generica funzione e il corrispondente asintoto si intersecano quindi in un solo punto di coordinate  $(1; k)$ .

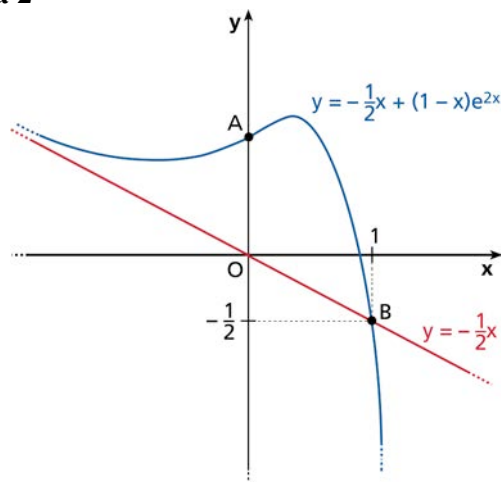
c) Se  $k = -\frac{1}{2}$ , la funzione diventa:  $y = -\frac{1}{2}x + (1-x)e^{2x}$ .

Dai punti precedenti sappiamo già che la funzione:

- ha dominio  $D = \mathbf{R}$ ;
- ha un solo punto di flesso  $A(0; 1)$ , con concavità verso l'alto per  $x < 0$  e verso il basso per  $x > 0$ ;
- ha asintoto obliquo di equazione  $y = -\frac{1}{2}x$  per  $x \rightarrow -\infty$ ;
- tende a  $-\infty$  per  $x \rightarrow +\infty$ ;
- interseca l'asintoto obliquo nel punto  $B\left(1; -\frac{1}{2}\right)$ .

Con questi elementi possiamo già disegnare un grafico probabile della funzione (figura 2).

**Figura 2**



Possiamo anche ipotizzare che la funzione abbia un minimo relativo e un massimo relativo. Per verificarlo, studiamo la derivata prima:

$$y' = -\frac{1}{2} + (1 - 2x)e^{2x}.$$

Studiamo il segno di  $y'$ .

$$y' \geq 0 \rightarrow -\frac{1}{2} + (1 - 2x)e^{2x} \geq 0 \rightarrow (1 - 2x)e^{2x} \geq \frac{1}{2}.$$

Se  $1 - 2x > 0$  (cioè se  $x < \frac{1}{2}$ ), possiamo scrivere:

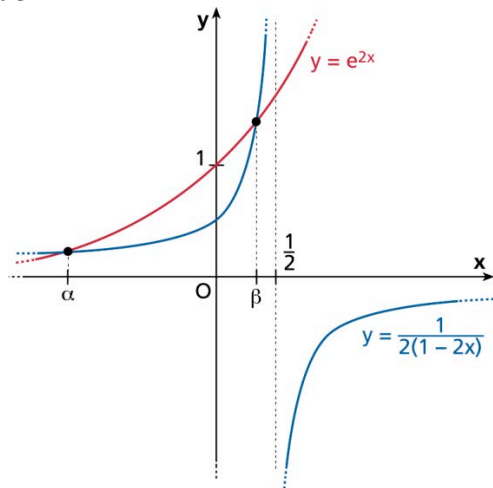
$$e^{2x} \geq \frac{1}{2(1 - 2x)}.$$

Risolviamo graficamente questa disequazione (figura 3), considerando le funzioni:

$$y = e^{2x},$$

$$y = \frac{1}{2(1 - 2x)}, \text{ funzione omografica di centro } \left(\frac{1}{2}; 0\right).$$

**Figura 3**

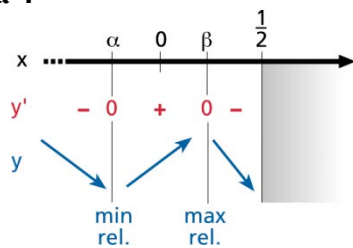


Dal grafico deduciamo che per  $\alpha \leq x \leq \beta$ , con  $\alpha < 0$  e  $0 < \beta < \frac{1}{2}$ , risulta:

$$e^{2x} \geq \frac{1}{2(1-2x)} \rightarrow y' \geq 0.$$

Possiamo quindi disegnare il grafico dei segni della derivata prima (figura 4).

**Figura 4**

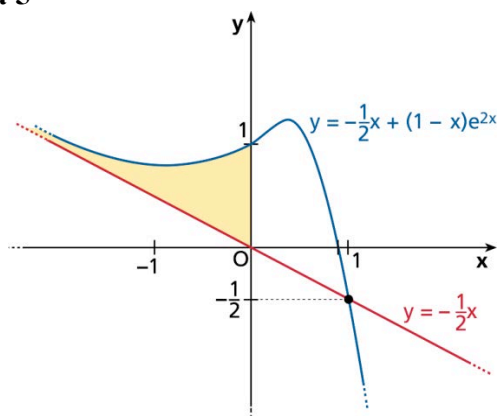


La funzione ha dunque un minimo relativo di ascissa negativa e un massimo relativo di ascissa compresa fra 0 e  $\frac{1}{2}$ .

Per  $x > \frac{1}{2}$ , la funzione ha sempre la concavità verso il basso, quindi non ha né minimi né massimi relativi.

d) La regione di piano di cui dobbiamo calcolare l'area è quella evidenziata nella figura 5.

**Figura 5**



L'area è data dal seguente integrale improprio:

$$S = \int_{-\infty}^0 \left[ -\frac{1}{2}x + (1-x)e^{2x} - \left(-\frac{1}{2}x\right) \right] dx = \int_{-\infty}^0 (1-x)e^{2x} dx = \lim_{\delta \rightarrow -\infty} \int_{\delta}^0 (1-x)e^{2x} dx.$$

Eseguiamo il calcolo con il metodo di integrazione per parti:

$$\begin{aligned} S_{\delta} &= \int_{\delta}^0 (1-x)e^{2x} dx = \left[ (1-x) \frac{e^{2x}}{2} \right]_{\delta}^0 + \frac{1}{2} \int_{\delta}^0 e^{2x} dx = \frac{1}{2} - \frac{(1-\delta)e^{2\delta}}{2} + \frac{1}{4} [e^{2x}]_{\delta}^0 = \\ &= \frac{1}{2} - \frac{(1-\delta)e^{2\delta}}{2} + \frac{1}{4} - \frac{e^{2\delta}}{4} = \frac{3}{4} - \frac{3-2\delta}{4} e^{2\delta}. \end{aligned}$$

Nel passaggio al limite per  $\delta \rightarrow -\infty$ , il secondo addendo dà luogo a una forma indeterminata  $\infty \cdot 0$ ; trasformiamola in una forma  $\frac{\infty}{\infty}$  e applichiamo il teorema di De L'Hospital:

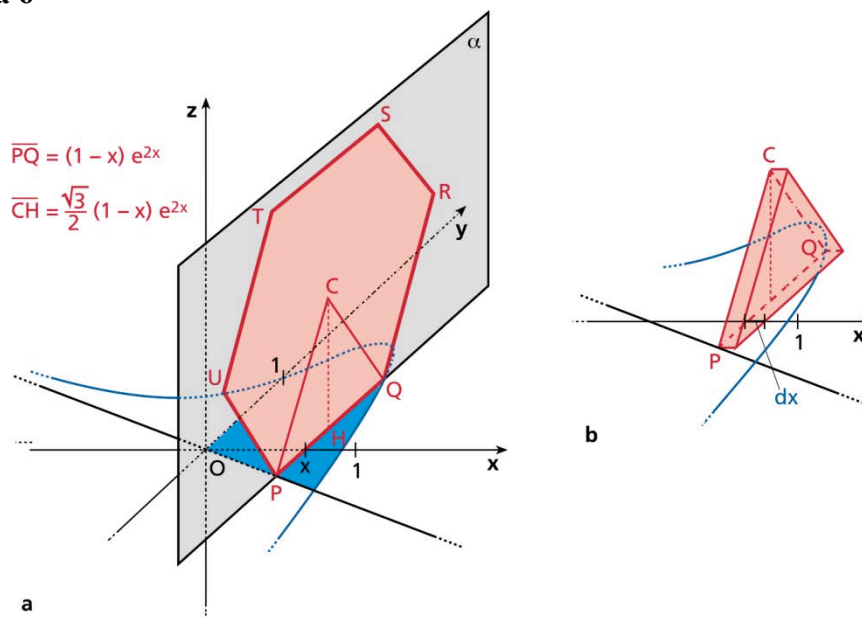
$$\lim_{\delta \rightarrow -\infty} \frac{3-2\delta}{4} e^{2\delta} = \lim_{\delta \rightarrow -\infty} \frac{3-2\delta}{4e^{-2\delta}}; \lim_{\delta \rightarrow -\infty} \frac{-2}{-8e^{-2\delta}} = 0 \rightarrow \lim_{\delta \rightarrow -\infty} \frac{3-2\delta}{4} e^{2\delta} = 0.$$

L'area della regione indicata è pertanto data da:

$$S = \lim_{\delta \rightarrow -\infty} S_{\delta} = \frac{3}{4}.$$

e) Nel piano  $(x; y)$  di un riferimento  $O(x; y; z)$  tracciamo il grafico della funzione ed evidenziamo l'area di base del solido. Intersechiamo tale area con un piano  $\alpha$  perpendicolare all'asse  $x$  e disegniamo l'esagono regolare  $PQRSTU$ , sezione dello stesso solido (figura 6a).

**Figura 6**



L'elemento infinitesimo di volume è dato da:

$$dV = S_{es} dx = 6 \cdot \frac{1}{2} \overline{PQ} \cdot \overline{HC} \cdot dx = \frac{3\sqrt{3}}{2} \overline{PQ}^2 dx = \frac{3\sqrt{3}}{2} (1-x)^2 e^{4x} dx.$$

(Nella figura 6b è rappresentata la parte di volume infinitesimo generata dal triangolo equilatero  $PQC$ .)

Il volume richiesto è la somma degli infiniti volumi infinitesimi compresi fra  $x = 0$  e  $x = 1$ , cioè è dato dall'integrale definito:

$$V = \int_0^1 \frac{3\sqrt{3}}{2} (1-x)^2 e^{4x} dx = \frac{3\sqrt{3}}{2} \int_0^1 (1-x)^2 e^{4x} dx.$$

Calcoliamo l'integrale con il metodo di integrazione per parti:

$$\begin{aligned} \int_0^1 (1-x)^2 e^{4x} dx &= \left[ (1-x)^2 \frac{e^{4x}}{4} \right]_0^1 - \int_0^1 \frac{(-2)(1-x)e^{4x}}{4} dx = \\ &= -\frac{1}{4} + \frac{1}{2} \left\{ \left[ (1-x) \frac{e^{4x}}{4} \right]_0^1 - \int_0^1 \frac{-e^{4x}}{4} dx \right\} = -\frac{1}{4} + \frac{1}{2} \left\{ -\frac{1}{4} + \left[ \frac{e^{4x}}{16} \right]_0^1 \right\} = \\ &= -\frac{1}{4} - \frac{1}{8} + \frac{e^4 - 1}{32} = \frac{e^4 - 13}{32}. \end{aligned}$$

Il volume del solido è dunque:  $V = \frac{3\sqrt{3}}{2} \cdot \frac{e^4 - 13}{32} = \frac{3\sqrt{3}(e^4 - 13)}{64}$ .

## Problema 2

a) Nella generica funzione omografica di equazione

$$y = \frac{ax + b}{cx + d},$$

poiché è necessariamente  $c \neq 0$ , possiamo porre  $c = 1$ ; quindi, poiché il centro della funzione omografica ha coordinate

$$C\left(-\frac{d}{c}; \frac{a}{c}\right) \rightarrow C(-d; a),$$

affinché il centro sia nel punto  $(1; 1)$  deve essere  $a = 1$  e  $d = -1$ . Inoltre, poiché  $P$  appartiene al grafico di  $f'(x)$ , è  $b = -2$ , pertanto

$$f'(x) = \frac{x-2}{x-1}.$$

Determiniamo  $f(x)$  come primitiva di  $f'(x)$ :

$$f(x) = \int \frac{x-2}{x-1} dx = \int \left( 1 - \frac{1}{x-1} \right) dx = x - \ln|x-1| + k.$$

La funzione  $f(x)$  è, per ipotesi, definita per  $x > 1$ , dunque:

$$f(x) = x - \ln(x-1) + k;$$

inoltre, siccome il grafico della funzione interseca l'asse delle ascisse in  $P$ , si ha  $f(2) = 0$ , ovvero:

$$2 - \ln 1 + k = 0 \rightarrow k = -2.$$

Pertanto:

$$f(x) = x - 2 - \ln(x-1).$$

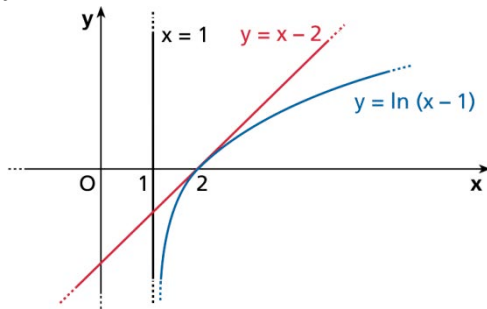
b) Studiamo la funzione.

- Dominio:  $]1; +\infty[$ .
- Parità: la funzione non è né pari né dispari.
- Intersezione con gli assi. Dato il dominio, non esiste alcuna intersezione con l'asse delle ordinate, mentre per quanto riguarda l'intersezione con l'asse delle ascisse bisogna risolvere l'equazione:

$$x - 2 - \ln(x-1) = 0 \rightarrow x - 2 = \ln(x-1).$$

Risolviamo graficamente l'equazione: poniamo  $y = x - 2$  e  $y = \ln(x-1)$ , rappresentiamo le due funzioni e troviamo i punti comuni.

**Figura 7**



Dal grafico delle due funzioni  $y = x - 2$  e  $y = \ln(x - 1)$  si deduce che la prima è la retta tangente alla seconda nel punto  $P$ , quindi l'equazione ha come unica soluzione (doppia)  $x = 2$ .

- Segno.  $f(x) > 0$  se:  
 $x - 2 - \ln(x-1) > 0 \rightarrow x - 2 > \ln(x-1);$   
dal grafico precedente deduciamo che  $x - 2 > \ln(x-1)$  per  $x \neq 2$ , quindi nel suo dominio la funzione è sempre positiva, tranne che per  $x = 2$ .

- Limiti.

$$\lim_{x \rightarrow 1^+} f(x) = \lim_{x \rightarrow 1^+} [x - 2 - \ln(x - 1)] = +\infty,$$

quindi la retta di equazione  $x = 1$  è un asintoto verticale (destra).

Inoltre:

$$\lim_{x \rightarrow +\infty} [x - 2 - \ln(x - 1)] = +\infty,$$

quindi non esiste l'asintoto orizzontale. Se esistesse l'asintoto obliquo, esso avrebbe equazione  $y = mx + q$ , dove:

$$m = \lim_{x \rightarrow +\infty} \frac{f(x)}{x} = \lim_{x \rightarrow +\infty} \frac{[x - 2 - \ln(x - 1)]}{x} = 1$$

e

$$q = \lim_{x \rightarrow +\infty} [f(x) - mx] = \lim_{x \rightarrow +\infty} [x - 2 - \ln(x - 1) - x] = \lim_{x \rightarrow +\infty} [-2 - \ln(x - 1)] = -\infty.$$

Poiché  $q$  non ha valore finito, non esiste nemmeno l'asintoto obliquo.

- Crescenza. Dal testo e dal punto a) sappiamo che:

$$f'(x) = \frac{x - 2}{x - 1}.$$

Risolviendo  $f'(x) > 0$ , otteniamo che la funzione è decrescente in  $]1; 2[$  e crescente in  $]2; +\infty[$ . Di conseguenza, il punto  $x = 2$  in cui  $f'(x)$  si annulla è un punto di minimo.

- Concavità. Poiché

$$f'(x) = \frac{x - 2}{x - 1} = 1 - \frac{1}{x - 1},$$

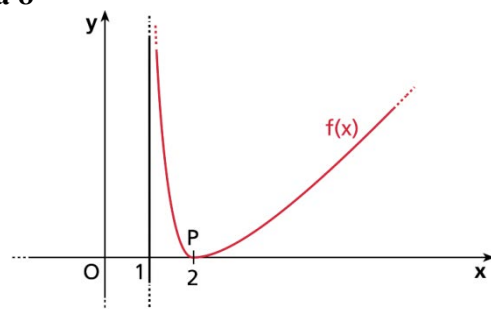
la derivata seconda è

$$f''(x) = \frac{1}{(x - 1)^2},$$

che nel dominio della funzione è sempre positiva: la funzione, pertanto, volge sempre la concavità verso l'alto.

Tracciamo il grafico  $\gamma$  di  $f(x)$ .

**Figura 8**



- c) L'equazione

$$f(x) = e - 2$$

equivale a:

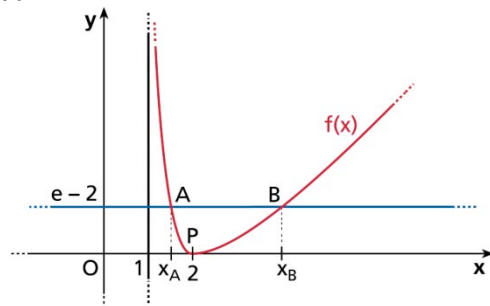
$$x - 2 - \ln(x - 1) = e - 2 \rightarrow x - e - \ln(x - 1) = 0.$$



Dal punto di vista grafico risolvere l'equazione equivale a trovare le ascisse dei punti di intersezione della funzione con la retta di equazione:

$$y = e - 2.$$

**Figura 9**



Dal grafico osserviamo che una soluzione  $(x_A)$  è compresa in  $[1; 2]$ .

Indichiamo con  $g(x)$  la funzione:

$$g(x) = x - e - \ln(x - 1).$$

Essendo  $\lim_{x \rightarrow 1^+} g(x) = g(1^+) > 0$  e  $g(2) < 0$ , con il metodo di bisezione possiamo determinare  $x_A$  con l'approssimazione voluta.

Compiliamo la tabella con le iterazioni previste dal metodo di bisezione, partendo dall'intervallo  $[1,001; 2]$ .

$n$	$a_n$	$b_n$	$m_n$	$g(m_n)$
0	1,001	2	1,5	-0,53
1	1,001	1,5	1,25	-0,08
2	1,001	1,25	1,13	0,45
3	1,13	1,25	1,19	0,13
4	1,19	1,25	1,22	0,02
5	1,22	1,25	-	-

Abbiamo determinato che  $x_A$  appartiene all'intervallo  $[1,22; 1,25]$ , quindi la soluzione è  $x_A = 1,2\dots$

d) Per trovare l'area della regione finita di piano compresa tra la curva, l'asse delle ascisse e la retta di equazione  $x = 1$ , innanzi tutto calcoliamo l'integrale indefinito. Per risolvere una parte dell'integrale indefinito applichiamo il metodo di integrazione per parti.

$$\begin{aligned} \int [x - 2 - \ln(x - 1)] dx &= \frac{x^2}{2} - 2x - x \ln(x - 1) + \int \frac{x}{x - 1} dx = \\ &= \frac{x^2}{2} - 2x - x \ln(x - 1) + x + \ln(x - 1) + k = \frac{x^2}{2} - x + (1 - x) \ln(x - 1) + k. \end{aligned}$$

Quindi, poiché

$$\int_t^2 [x - 2 - \ln(x - 1)] dx = \left[ \frac{x^2}{2} - x + (1 - x) \ln(x - 1) \right]_t^2 =$$

$$= 2 - 2 - \frac{t^2}{2} + t - (1 - t) \ln(t - 1) = t - \frac{t^2}{2} - (1 - t) \ln(t - 1),$$

l'area richiesta è data da:

$$\int_1^2 [x - 2 - \ln(x - 1)] dx = \lim_{t \rightarrow 1^+} \int_t^2 [x - 2 - \ln(x - 1)] dx =$$

$$= \lim_{t \rightarrow 1^+} \left[ t - \frac{t^2}{2} - (1 - t) \ln(t - 1) \right].$$

Osserviamo che nel calcolo del limite si ha  $\lim_{t \rightarrow 1^+} \left( t - \frac{t^2}{2} \right) = \frac{1}{2}$ , mentre  $\lim_{t \rightarrow 1^+} [(1 - t) \ln(t - 1)]$  porta a una forma indeterminata del tipo  $0 \cdot \infty$ .

Possiamo però scrivere  $\lim_{t \rightarrow 1^+} [(1 - t) \ln(t - 1)] = \lim_{t \rightarrow 1^+} \frac{\ln(t - 1)}{\frac{1}{1 - t}}$  e quindi, applicando il teorema di De

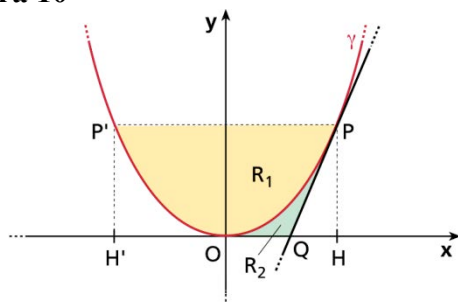
L'Hospital, concludere che:

$$\lim_{t \rightarrow 1^+} \left[ t - \frac{t^2}{2} - (1 - t) \ln(t - 1) \right] = \lim_{t \rightarrow 1^+} \left( t - \frac{t^2}{2} \right) - \lim_{t \rightarrow 1^+} \frac{\ln(t - 1)}{\frac{1}{1 - t}} = \frac{1}{2} - \lim_{t \rightarrow 1^+} \frac{\frac{1}{t - 1}}{\frac{1}{(1 - t)^2}} = \frac{1}{2} - 0 = \frac{1}{2}.$$

## Questionario

1. Disegniamo la generica parabola di equazione  $y = kx^2$ , con  $k > 0$ , assieme alla retta tangente nel punto  $P$  e alla parallela all'asse  $x$  (figura 10).

**Figura 10**



Il segmento parabolico individuato dalla corda  $PP'$  è indicato con  $R_1$  in figura, mentre il triangolo curvilineo è indicato con  $R_2$ .

Il generico punto  $P$  ha coordinate  $P(a; ka^2)$ , con  $a > 0$ .

L'area di un segmento parabolico, per la formula di Archimede, è pari ai  $\frac{2}{3}$  dell'area del rettangolo circoscritto, quindi l'area di  $R_1$  è data da:

$$A_1 = \frac{2}{3} \cdot \overline{PP'} \cdot \overline{PH} = \frac{2}{3} \cdot 2a \cdot ka^2 = \frac{4}{3} ka^3.$$

Possiamo calcolare l'area di  $R_2$  per differenza: dall'area delimitata dal grafico di  $\gamma$  nell'intervallo  $[0; a]$  sottraiamo l'area del triangolo  $QHP$ .

Determiniamo innanzi tutto le coordinate di  $Q$ .

Retta tangente a  $\gamma$  in  $P$ :

$$y - y_P = m \cdot (x - x_P) \rightarrow y - ka^2 = 2ka \cdot (x - a) \rightarrow y = 2kax - ka^2,$$

dove  $m = y'(x_P) = y'(a) = 2ka$ .

Coordinate del punto  $Q$ :

$$\begin{cases} y = 2kax - ka^2 \\ y = 0 \end{cases} \rightarrow \begin{cases} 2kax = ka^2 \\ y = 0 \end{cases} \rightarrow \begin{cases} x = \frac{a}{2} \\ y = 0 \end{cases} \rightarrow Q\left(\frac{a}{2}; 0\right).$$

L'area di  $R_2$  vale dunque:

$$A_2 = \int_0^a kx^2 dx - \frac{1}{2} \cdot \left(a - \frac{a}{2}\right) \cdot ka^2 = \left[\frac{kx^3}{3}\right]_0^a - \frac{ka^3}{4} = \frac{ka^3}{3} - \frac{ka^3}{4} = \frac{ka^3}{12}.$$

Il rapporto fra le due aree è:

$$\frac{A_1}{A_2} = \frac{4ka^3}{3} \cdot \frac{12}{ka^3} = 16.$$

Dato che il rapporto è costante al variare delle coordinate di  $P$ , il limite richiesto è 16.

## 2. Studiamo dominio, codominio, periodicità e derivabilità.

- Dominio e codominio.

Per ogni  $x \in \mathbf{R}$  è  $-1 \leq \sin x \leq 1$ , quindi esiste  $\arcsin(\sin x)$  ed è  $-\frac{\pi}{2} \leq \arcsin(\sin x) \leq \frac{\pi}{2}$ ;

pertanto il dominio della funzione è  $\mathbf{R}$  e il codominio, dato che  $y$  è una composizione di

funzioni continue, è l'intervallo  $\left[-\frac{\pi}{2}; \frac{\pi}{2}\right]$ .

- Periodicità.

La funzione seno ha periodo  $2\pi$ , mentre la funzione arcoseno non è periodica. La funzione composta data, pertanto, ha periodo  $2\pi$ .

- Derivabilità.

Se  $\sin x \neq \pm 1$ , cioè se  $x \neq \frac{\pi}{2} + k\pi \forall k \in \mathbf{Z}$ , la derivata è:

$$y' = \frac{\cos x}{\sqrt{1 - \sin^2 x}} = \frac{\cos x}{\sqrt{\cos^2 x}} = \frac{\cos x}{|\cos x|}.$$

Per  $x \neq \frac{\pi}{2} + k\pi$  è quindi  $y' = \pm 1$ .

In particolare:

$$y' = 1 \quad \text{se} \quad x \in \left] -\frac{\pi}{2} + 2k\pi; \frac{\pi}{2} + 2k\pi \right[;$$

$$y' = -1 \quad \text{se} \quad x \in \left] \frac{\pi}{2} + 2k\pi; \frac{3}{2}\pi + 2k\pi \right[.$$

Deduciamo che in ognuno di tali intervalli il grafico della funzione coincide con un segmento parallelo alla bisettrice del I e III quadrante o del II e IV quadrante.

Nei punti  $x = \frac{\pi}{2} + k\pi$  la funzione non è derivabile, ma è continua ed esistono, finite, la derivata destra e sinistra. Possiamo determinarle calcolando i limiti destro e sinistro di  $y'$ , per esempio:

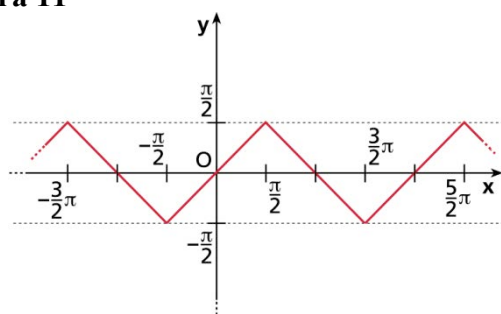
$$\lim_{x \rightarrow \frac{\pi}{2}^+} y' = -1, \quad \lim_{x \rightarrow \frac{\pi}{2}^-} y' = 1.$$

Concludiamo che i punti  $x = \frac{\pi}{2} + k\pi$  sono punti angolosi.

Utilizziamo le informazioni ottenute per disegnare il grafico della funzione nell'intervallo  $\left[-\frac{\pi}{2}; \frac{3}{2}\pi\right]$  che poi prolunghiamo, tenendo conto della periodicità con periodo  $2\pi$ , su tutto  $\mathbf{R}$ .

Otteniamo il seguente grafico (figura 11).

**Figura 11**



3. Dobbiamo verificare, in accordo con le ipotesi del teorema di Rolle, che  $f(x)$  sia continua in  $\left[-\frac{\pi}{2}; \frac{3}{2}\pi\right]$ , derivabile in  $\left]-\frac{\pi}{2}; \frac{3}{2}\pi\right[$  e che  $f\left(-\frac{\pi}{2}\right) = f\left(\frac{3}{2}\pi\right)$ .  
 $f(x)$  è continua per ogni  $x \neq a$ .

Imponiamo poi che  $f(x)$  sia continua in  $x = a$ . Tenuto conto che  $\lim_{x \rightarrow a^-} f(x) = f(a) = 0$ , deve essere:

$$\lim_{x \rightarrow a^+} f(x) = 0 \rightarrow \frac{4a^2}{\pi^2} - \frac{8a}{\pi} + 3 = 0 \rightarrow 4a^2 - 8a\pi + 3\pi^2 = 0 \rightarrow a = \frac{\pi}{2} \vee a = \frac{3}{2}\pi.$$

Solo il primo valore è accettabile, in quanto interno all'intervallo richiesto, quindi la funzione è continua per  $a = \frac{\pi}{2}$  e diventa:

$$f(x) = \begin{cases} -\frac{4}{\pi} \operatorname{sen}\left(x - \frac{\pi}{2}\right) & \text{se } x \leq \frac{\pi}{2} \\ \frac{4x^2}{\pi^2} - \frac{8x}{\pi} + 3 & \text{se } x > \frac{\pi}{2} \end{cases}.$$

La funzione ottenuta è derivabile per  $x \neq \frac{\pi}{2}$ ; nel punto  $x = \frac{\pi}{2}$  è derivabile se le derivate destra e sinistra sono uguali. Tenuto conto della continuità, si ha:

- derivata sinistra:

$$f'_-\left(\frac{\pi}{2}\right) = \lim_{x \rightarrow \frac{\pi}{2}^-} f'(x) = \lim_{x \rightarrow \frac{\pi}{2}^-} -\frac{4}{\pi} \cos\left(x - \frac{\pi}{2}\right) = -\frac{4}{\pi};$$

- derivata destra:

$$f'_+\left(\frac{\pi}{2}\right) = \lim_{x \rightarrow \frac{\pi}{2}^+} f'(x) = \lim_{x \rightarrow \frac{\pi}{2}^+} \left(\frac{8x}{\pi^2} - \frac{8}{\pi}\right) = -\frac{4}{\pi}.$$

Le due derivate sono uguali, quindi la funzione è derivabile in  $x = \frac{\pi}{2}$ .

Infine, osserviamo che  $f\left(-\frac{\pi}{2}\right) = f\left(\frac{3}{2}\pi\right) = 0$ .

La funzione data soddisfa quindi le ipotesi del teorema di Rolle in  $\left[-\frac{\pi}{2}; \frac{3}{2}\pi\right]$  per  $a = \frac{\pi}{2}$ .

4. Una funzione suriettiva da  $A$  a  $B$  ha per dominio  $A$  e per codominio  $B$ . Dato che l'insieme  $A$  ha un elemento in più rispetto a  $B$ , due tra i sei elementi di  $A$  devono avere la stessa immagine in  $B$ . Il numero di modi in cui possiamo selezionare tale coppia di elementi di  $A$  è pari al numero di combinazioni semplici di 6 oggetti di classe 2:

$$C_{6,2} = \binom{6}{2} = \frac{6!}{2!(6-2)!} = 15.$$

Dopo aver fissato la coppia di elementi con la stessa immagine, il numero di modi in cui è possibile associare agli elementi di  $A$  gli elementi di  $B$  è pari al numero di permutazioni semplici di 5 oggetti:

$$P_5 = 5! = 120.$$

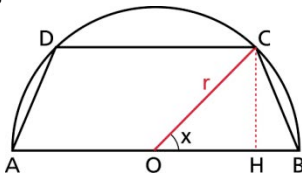
Pertanto il numero complessivo di funzioni suriettive da  $A$  a  $B$  che possiamo definire è pari a:

$$P_5 \cdot C_{6,2} = 1800.$$

5. Dato che ciascun punto del bersaglio ha la medesima probabilità di essere centrato, calcoliamo la probabilità richiesta come rapporto tra l'area della parte esterna al trapezio e l'area del semicerchio.

Consideriamo dunque un trapezio isoscele  $ABCD$  inscritto nella semicirconferenza di raggio  $r$  e poniamo  $\widehat{COB} = x$  (figura 12). Le limitazioni per  $x$  sono:  $0 < x < \frac{\pi}{2}$ .

**Figura 12**



Indichiamo con  $H$  il piede della perpendicolare ad  $AB$  condotta da  $C$ ; abbiamo  $\overline{CD} = 2\overline{OH}$ . Applichiamo al triangolo  $COH$  il primo teorema fondamentale dei triangoli rettangoli e ricaviamo:

$$\overline{CH} = r \operatorname{sen} x; \quad \overline{OH} = r \cos x.$$

L'area del trapezio in funzione dell'angolo  $x$  è quindi data da:

$$A(x) = \frac{(\overline{AB} + \overline{CD}) \cdot \overline{CH}}{2} = \frac{(2r + 2r \cos x) r \operatorname{sen} x}{2} = r^2 \operatorname{sen} x (1 + \cos x).$$

$A(x)$  è continua e derivabile nell'intervallo  $\left]0; \frac{\pi}{2}\right[$  delle limitazioni per  $x$ . Per individuarne il massimo assoluto, calcoliamo  $A'(x)$  e studiamone il segno:

$$A'(x) = r^2 [\cos x (1 + \cos x) - \operatorname{sen}^2 x] = r^2 (\cos x + \cos^2 x - \operatorname{sen}^2 x) = r^2 (2 \cos^2 x + \cos x - 1).$$

In  $\left]0; \frac{\pi}{2}\right[$ , la derivata si annulla per:

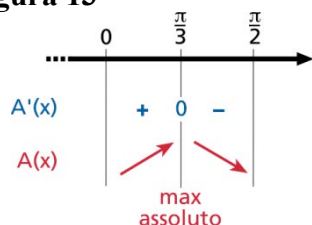
$$2 \cos^2 x + \cos x - 1 = 0 \rightarrow \cos x = \frac{-1 \pm \sqrt{1+8}}{4} = \frac{-1 \pm 3}{4} \rightarrow \cos x = -1 \vee \cos x = \frac{1}{2}.$$

$$\cos x = -1 \rightarrow x = \pi \text{ non accettabile;}$$

$$\cos x = \frac{1}{2} \rightarrow x = \frac{\pi}{3}.$$

Il segno di  $A'(x)$  e la crescita di  $A(x)$  sono riportate nel seguente grafico (figura 13).

Figura 13



L'area massima del trapezio si ha quindi per  $x = \frac{\pi}{3}$  e vale:

$$A_{max} = A\left(\frac{\pi}{3}\right) = r^2 \operatorname{sen} \frac{\pi}{3} \left(1 + \cos \frac{\pi}{3}\right) = \frac{3\sqrt{3}}{4} r^2.$$

La probabilità richiesta, calcolata come rapporto fra l'area della parte esterna al trapezio e quella del semicerchio  $A_{sc}$ , è quindi pari a:

$$p = \frac{A_{sc} - A_{max}}{A_{sc}} = 1 - \frac{A_{max}}{A_{sc}} = 1 - \frac{\frac{3\sqrt{3}}{4} r^2}{\frac{\pi}{2} r^2} = 1 - \frac{3\sqrt{3}}{2\pi} \approx 0,17.$$

6. Data una funzione  $f$  continua in  $\mathbf{R}$ , la sua funzione integrale di punto iniziale  $a$  è:

$$F(x) = \int_a^x f(t) dt, \quad \forall x \in \mathbf{R}.$$

Per il teorema fondamentale del calcolo integrale, questa funzione integrale è derivabile e risulta:

$$F'(x) = f(x).$$

Fissiamo dunque a piacere un punto iniziale  $a$  e applichiamo all'integrale dato le proprietà di additività e di scambio degli estremi di integrazione dell'integrale definito:

$$g(x) = \int_x^{2x} f(t) dt = \int_x^a f(t) dt + \int_a^{2x} f(t) dt = -\int_a^x f(t) dt + \int_a^{2x} f(t) dt.$$

Calcoliamo la derivata di  $g(x)$ , osservando che il secondo addendo è una funzione composta:

$$g'(x) = -f(x) + f(2x) \cdot D[2x] = -f(x) + 2f(2x).$$

Ora calcoliamo i risultati richiesti, tenendo conto dei dati noti del problema:

$$g(0) = \int_0^0 f(t) dt = 0;$$

$$g'(0) = -f(0) + 2f(2 \cdot 0) = -\left(-\frac{1}{2}\right) + 2\left(-\frac{1}{2}\right) = -\frac{1}{2};$$

$$g'\left(\frac{1}{2}\right) = -f\left(\frac{1}{2}\right) + 2f\left(2 \cdot \frac{1}{2}\right) = -\frac{1}{4} + 2 \cdot 1 = \frac{7}{4}.$$

7. Il dominio di  $f$  è dato da:

$$e^x - 1 > 0 \rightarrow e^x > 1 \rightarrow x > 0.$$

Eventuali asintoti si trovano studiando il comportamento di  $f$  agli estremi del dominio  $]0; +\infty[$ .  
Nell'estremo sinistro abbiamo:

$$\lim_{x \rightarrow 0^+} \ln(e^x - 1) = -\infty.$$

La retta  $x = 0$ , cioè l'asse  $y$ , è asintoto verticale (destra).  
Nell'estremo destro abbiamo:

$$\lim_{x \rightarrow +\infty} \ln(e^x - 1) = +\infty.$$

Non c'è asintoto orizzontale. Stabiliamo se esiste l'asintoto obliquo di equazione  $y = mx + q$ , cominciando con il calcolare il coefficiente angolare  $m$ :

$$m = \lim_{x \rightarrow +\infty} \frac{f(x)}{x} = \lim_{x \rightarrow +\infty} \frac{\ln(e^x - 1)}{x}.$$

Il limite si presenta nella forma indeterminata  $\frac{\infty}{\infty}$ ; proviamo a risolverla applicando il teorema di De L'Hospital:

$$\lim_{x \rightarrow +\infty} \frac{\ln(e^x - 1)}{x} = \lim_{x \rightarrow +\infty} \frac{e^x}{e^x - 1} = \lim_{x \rightarrow +\infty} \frac{e^x}{e^x - 1} = \lim_{x \rightarrow +\infty} \frac{e^x}{e^x(1 - e^{-x})} = 1.$$

Pertanto  $m = 1$ .

Cerchiamo ora il termine noto  $q$ :

$$q = \lim_{x \rightarrow +\infty} [f(x) - mx] = \lim_{x \rightarrow +\infty} [\ln(e^x - 1) - x].$$

Il limite si presenta nella forma indeterminata  $+\infty - \infty$ ; per eliminarla utilizziamo l'identità  $x = \ln e^x$  e le proprietà del logaritmo:

$$\lim_{x \rightarrow +\infty} [\ln(e^x - 1) - x] = \lim_{x \rightarrow +\infty} [\ln(e^x - 1) - \ln e^x] = \lim_{x \rightarrow +\infty} \ln \frac{e^x - 1}{e^x} = \ln 1 = 0.$$

Pertanto la retta  $y = x$  è asintoto obliquo per  $x$  tendente a  $+\infty$ .

8. La funzione  $f(x)$ , essendo ovunque continua e derivabile, è in particolare continua nell'intervallo chiuso  $[0; 1]$  e derivabile nell'intervallo aperto  $]0; 1[$ . Sono dunque soddisfatte le ipotesi del teorema di Lagrange, quindi esiste  $c \in ]0; 1[$  tale che:



$$f'(c) = \frac{f(1) - f(0)}{1 - 0} \rightarrow f'(c) = f(1) - f(0).$$

Poiché  $f'(x) < e^x \forall x \in \mathbf{R}$  e  $c \in ]0; 1[$ , risulta:

$$f'(c) < e^c < e \rightarrow f(1) - f(0) < e.$$

La disuguaglianza si può dimostrare anche per altra via.

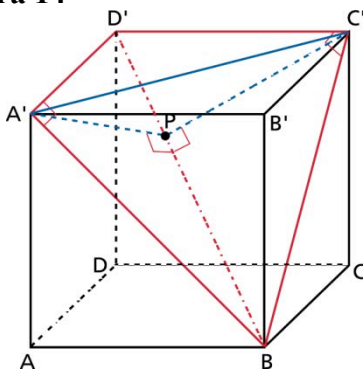
Poiché  $f'(x) < e^x \forall x \in \mathbf{R}$ , risulta:

$$\int_0^1 f'(x) dx < \int_0^1 e^x dx \rightarrow [f(x)]_0^1 < [e^x]_0^1 \rightarrow f(1) - f(0) < e - 1 < e.$$

In particolare, vale la disuguaglianza più restrittiva  $f(1) - f(0) < e - 1$ .

9. I triangoli  $A'D'B$  e  $C'D'B$ , rettangoli rispettivamente in  $A'$  e  $C'$ , sono congruenti perché hanno l'ipotenusa in comune e i cateti ordinatamente congruenti. Sono quindi congruenti anche le altezze relative all'ipotenusa, che cadono sullo stesso punto  $P$  (figura 14).

**Figura 14**



$D'B$  è dunque perpendicolare alle rette  $A'P$  e  $PC'$ , pertanto è perpendicolare al piano  $A'PC'$  che le contiene: tale piano è perciò una sezione normale del diedro convesso di facce  $A'D'B$  e  $C'D'B$ .

Applichiamo ora il teorema del coseno al triangolo  $A'PC'$  per determinare l'ampiezza dell'angolo  $A'\hat{P}C'$ :

$$\overline{A'C'}^2 = \overline{A'P}^2 + \overline{C'P}^2 - 2\overline{A'P} \cdot \overline{C'P} \cos A'\hat{P}C',$$

$$\overline{A'C'}^2 = 2\overline{A'P}^2 - 2\overline{A'P}^2 \cos A'\hat{P}C',$$

$$\cos A'\hat{P}C' = \frac{2\overline{A'P}^2 - \overline{A'C'}^2}{2\overline{A'P}^2}.$$

Esprimiamo tutti gli elementi in funzione della lunghezza  $a$  dello spigolo del cubo:

$$\overline{A'C'} = \overline{A'B} = a\sqrt{2}; \quad \overline{A'P} = \frac{\overline{A'B} \cdot \overline{A'D'}}{\overline{BD'}} = \frac{a\sqrt{2} \cdot a}{a\sqrt{3}} = \frac{\sqrt{6}}{3} a.$$

Calcoliamo l'ampiezza del diedro:

$$\cos A'\hat{P}C' = \frac{2 \cdot \frac{6}{9}a^2 - 2a^2}{2 \cdot \frac{6}{9}a^2} = -\frac{1}{2}, \quad A'\hat{P}C' = \frac{2}{3}\pi.$$

10. Possiamo riscrivere la funzione nel seguente modo:

$$f(x) = \begin{cases} 1 & \text{se } x < -1 \\ -x & \text{se } -1 \leq x < 0 \\ x & \text{se } 0 \leq x \leq 1 \\ -1 & \text{se } x > 1 \end{cases}$$

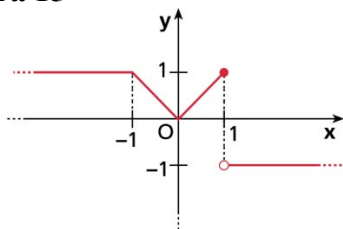
Osserviamo che, in ciascuno degli intervalli specificati nella definizione, la funzione è continua, e quindi gli eventuali punti di discontinuità sono solo  $x = -1$ ,  $x = 0$  e  $x = 1$ . Abbiamo:

$$\lim_{x \rightarrow -1} f(x) = 1 = f(-1); \quad \lim_{x \rightarrow 0} f(x) = 0 = f(0); \quad \lim_{x \rightarrow 1^+} f(x) = -1; \quad \lim_{x \rightarrow 1^-} f(x) = f(1) = 1.$$

Pertanto la funzione è continua ovunque tranne che in  $x = 1$ .

Il grafico della funzione è riportato in figura 15.

**Figura 15**



Dal grafico deduciamo anche che la funzione non è derivabile in  $x = -1$ ,  $x = 0$  e  $x = 1$ .

Verifichiamo analiticamente quanto dedotto dal grafico:

- $f'_-(-1) = \lim_{x \rightarrow -1^-} f'(x) = 0$ ,  $f'_+(-1) = \lim_{x \rightarrow -1^+} f'(x) = -1$ , le derivate destra e sinistra in  $x = -1$  sono diverse;
- $f'_-(0) = \lim_{x \rightarrow 0^-} f'(x) = -1$ ,  $f'_+(0) = \lim_{x \rightarrow 0^+} f'(x) = 1$ , le derivate destra e sinistra in  $x = 0$  sono diverse;
- la funzione non è continua in  $x = 1$ , quindi non è neppure derivabile in tale punto.